



PRACOVNÍ LIST SEMENA A PLODY

Koordinátor (organizuje, hlídá čas):










Sběratel:

Zapisovatel:

Experimentátor:

Badatelské lekce




1. VÝZKUMNÁ OTÁZKA – CO CHCEME ZJISTIT?
2. HYPOTÉZA: Myslíme si, že nejvíce semen se šíří (zakroužkujte v obrázku):

| V PATŘE | VÍTR | SRST | POTRAVA | JINAK |
|---|------|---|---|-------|
|  | VÍTR |  |  | |
|  | VÍTR |  |  | |
|  | VÍTR |  |  | |

3. CO JSME ZJISTILI? UDĚLEJTE ČÁRKU ZA KAŽDÝ DRUH A URČETE MIN. TŘI DRUHY PRO KAŽDÝ TYP ŠÍŘENÍ.

| | VÍTR | SRST | POTRAVA | JINAK |
|---|------|------|---------|-------|
|  | | | | |
|  | | | | |
|  | | | | |
| PŘÍKLAD DRUHU | | | | |
| PŘIZPŮSOBENÍ | | | | |

KOLAČOVÝ GRAF



4. ZAPIŠTE, ZDA SE VAŠE HYPOTÉZA POKUSEM POTVRDILA ČI VYVRÁTILA: